

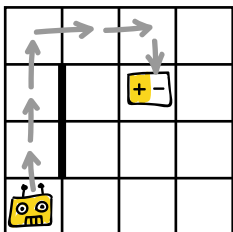
# АЛГОРИТМЫ ПО КЛЕТОЧКАМ

Сложность ★ ★

Вариант 1

С помощью какого набора команд робот  
доберётся до батарейки?

Пример:

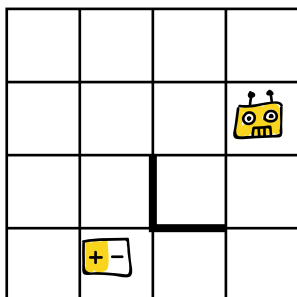


а.

б.

в.

1.

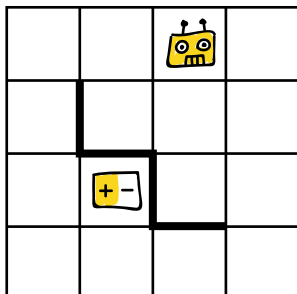


а.

б.

в.

2.

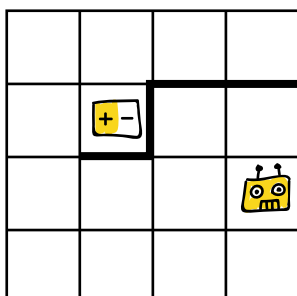


а.

б.

в.

3.

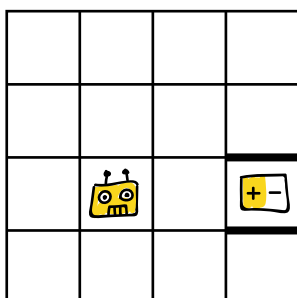


а.

б.

в.

4.



а.

б.

в.