

Имя.....

Дата.....

ЗАДАЧИ С ОБЛАСТЯМИ И МНОЖЕСТВАМИ

Сложность 

Вариант **1**

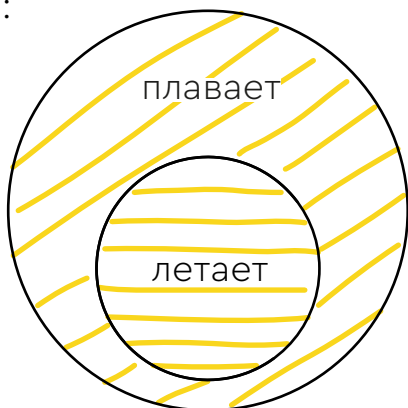


www.reshi-pishi.ru

Заштрихуй нужным образом области на схеме!

Пример:



-  Рыба
-  Утка

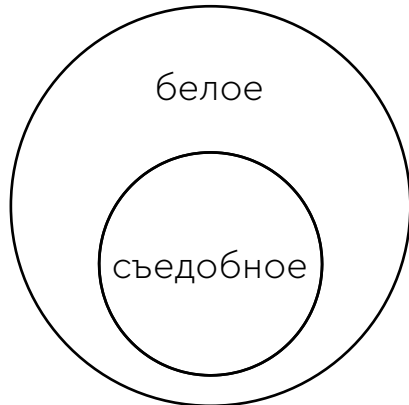


-  Торт
-  Лимонад
-  Дождь



1.

-  Вата
-  Сметана



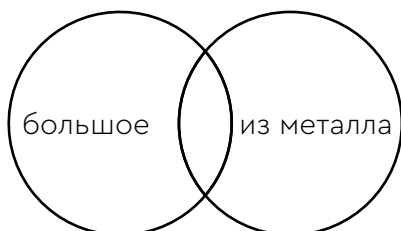
2.

-  Дуб
-  Кактус
-  Ёжик



3.

-  Слон
-  Танк
-  Гвоздь



4.

-  Лягушка
-  Трава

