

Имя.....

Дата.....

## ЗАДАЧИ С ОБЛАСТЯМИ И МНОЖЕСТВАМИ

Сложность 

Вариант **2**

Заштрихуй нужным образом области на схеме!





[www.reshi-pishi.ru](http://www.reshi-pishi.ru)

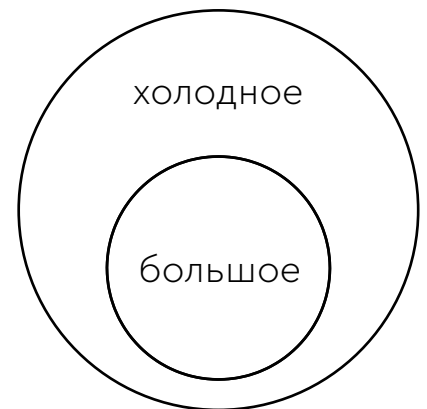
**1.**

-  Конфета
-  Компот
-  Вода



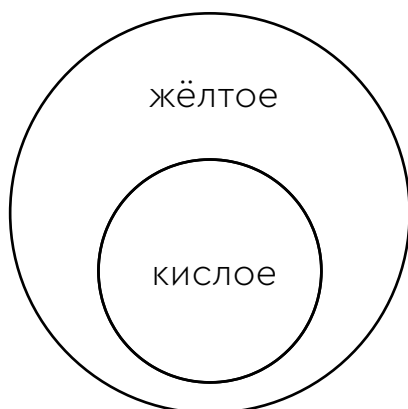
**2.**

-  Мороженное
-  Айсберг



**3.**

-  Солнце
-  Лимон



**4.**

-  Белка
-  Волк
-  Акула

